



T.C.
MİLLÎ EĞİTİM BAKANLIĞI
ÖLÇME, DEĞERLENDİRME VE SINAV HİZMETLERİ GENEL MÜDÜRLÜĞÜ

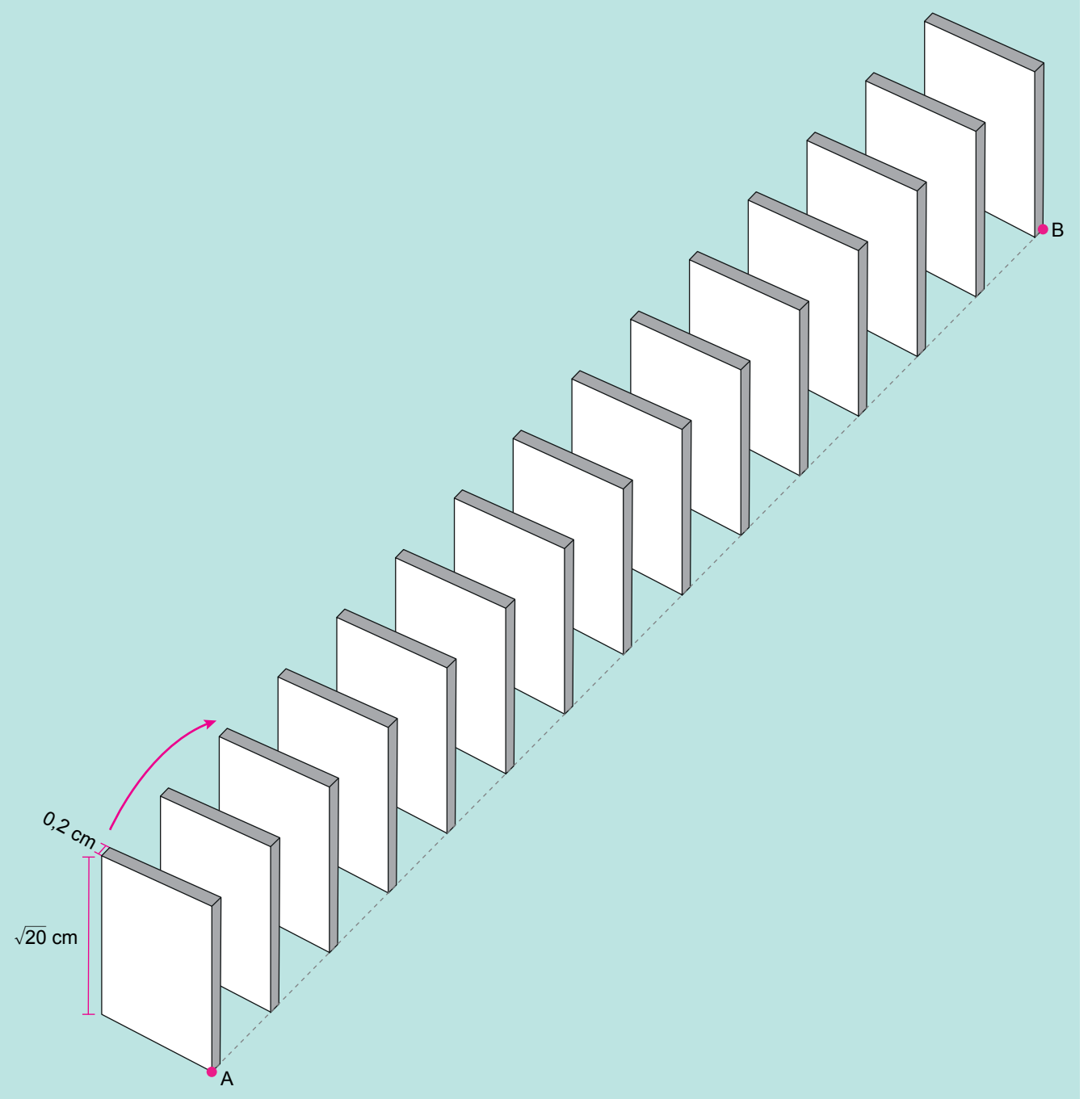
2018 - 2019 ÖĞRETİM YILI
Sınavla Öğrenci Alacak Ortaöğretim Kurumlarına
İlişkin Merkezî Sınav Yönelik
Nisan Ayı Örnek Soruları
(SAYISAL BÖLÜM)

- Bu kitapçıkta sayısal bölüme ait örnek sorular bulunmaktadır.
 - Matematik : 10 soru
 - Fen Bilimleri : 10 soru



Matematik Örnek Soruları

1. Doruk, ayrıtlarının uzunlukları $\sqrt{20}$ cm, $\sqrt{20}$ cm ve 0,2 cm olan prizma biçimindeki 15 taşı aralarında eşit mesafe olacak şekilde aşağıdaki gibi aynı hizada birbirine paralel biçimde dizmiştir. Doruk ilk taşı ok yönünde devirdiğinde son taş hariç her taşın sırasıyla bir sonraki taşı kaydırmadan devirdiğini gözlemlemiştir.



Ardışık taşlar arasındaki uzaklık bir tam sayıya eşit olduğuna göre A ile B noktaları arasındaki uzaklık en fazla kaç santimetre olur?

A) 57

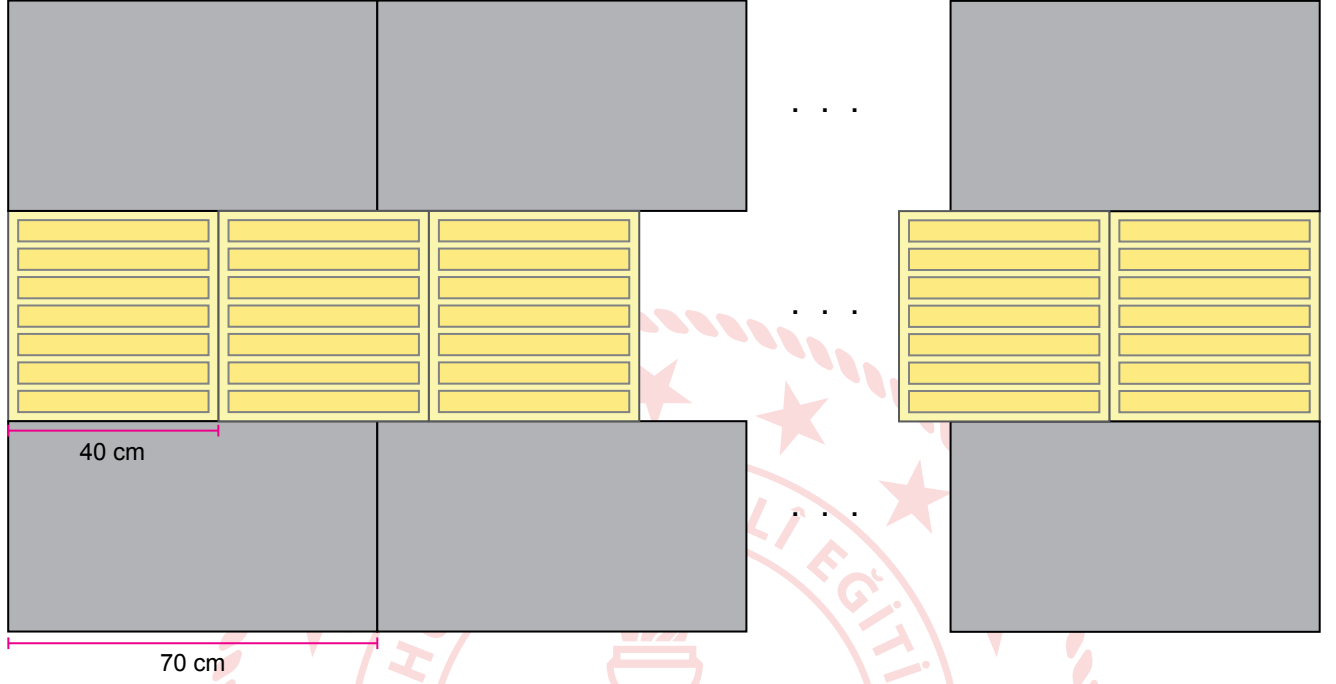
B) 59

C) 61

D) 63

2. Belediye görevlileri kaldırımlardaki dikdörtgenler prizması şeklindeki taşların arasına, görme engellilere yön belirlemede kolaylık sağlayacak üst yüzeyi kabartmalı kare prizma şeklindeki sarı renkli taşlar yerleştirmişlerdir.

Uzunluğu 30 metreden az olan düz bir kaldırıma bu taşlar görseldeki gibi bölünmeden, üst üste gelmeden ve aralarında boşluk kalmadan yerleştirilmiştir.



Bu kaldırıma yerleştirilen üst yüzeyi kabartmalı kare prizma şeklindeki sarı renkli taşların sayısı en çok kaçtır?

A) 40

B) 44

C) 70

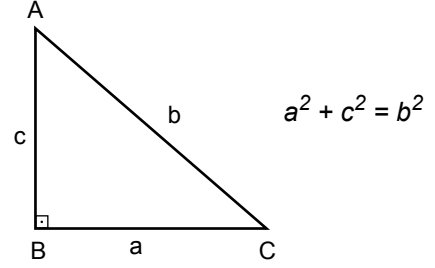
D) 74

3. İki terimin toplamının karesi, bu iki terimin kareleri ve bu iki terimin çarpımının iki katının toplamına eşittir.

$$(a + b)^2 = a^2 + 2ab + b^2$$

Dik üçgenlerde 90° lik açının karşısındaki kenara hipotenüs denir.

Bir dik üçgende dik kenarların uzunluklarının kareleri toplamı, hipotenüsün uzunluğunun karesine eşittir.



Ali teknoloji tasarım dersinde, elindeki kartondan alanı 48 cm^2 ve çevresi 28 cm olan dikdörtgen şeklinde bir televizyon yapıyor. Bu televizyonu, aşağıdaki görseldeki gibi dışına taşmayacak şekilde üzerine yerleştirebileceği daire şeklinde bir televizyon ünitesi yapmak istiyor.



Buna göre yapmak istediği televizyon ünitesinin çapının uzunluğu en az kaç santimetredir?

A) 9

B) 10

C) 11

D) 12

4. 23 Nisan Ulusal Egemenlik ve Çocuk Bayramı kutlamaları sırasında sahneye şiir okumak için art arda boyları 155, 157, 161, 166 ve 170 cm olan 5 öğrenci çıkacaktır. Sahnedeki ayaklı mikrofonun yerden yüksekliği öğrencilerin mikrofonun yüksekliğini ayarlamakla uğraşmaması için hepsinin boyuna uygun olacak şekilde ayarlanıyor.



Ayaklı mikrofonun yerden yüksekliğinin ses kalitesinin bozulmaması için kişinin boyundan en az 15 cm, en çok 35 cm aşağıda olması gerekmektedir.

Ayaklı mikrofonun yerden yüksekliği x cm olmak üzere, x 'in alabileceği tüm değerleri gösteren eşitsizlik aşağıdakilerden hangisidir?

- A) $130 \leq x \leq 135$
C) $140 \leq x \leq 145$

- B) $135 \leq x \leq 140$
D) $145 \leq x \leq 150$

5. Demir bir çubuğun her iki tarafına özdeş disk şeklindeki kütlelerin yerleştirilmesi ile meydana gelen alete "halter" denir. Aşağıdaki görselde kütleleri kilogram cinsinden birer tam sayı olan diskler kullanılarak oluşturulmuş bir halter verilmiştir.



Demir çubukla birlikte kütlesi 284 kg olan bu halterde kullanılan disklerden en büyüğünün kütlesi en küçüğünün kütlesinin 3, ortancanın kütlesinin 2 katıdır.


Buna göre demir çubuğun kütlesi en az kaç kilogramdır?

A) 24


B) 22

C) 20

D) 18

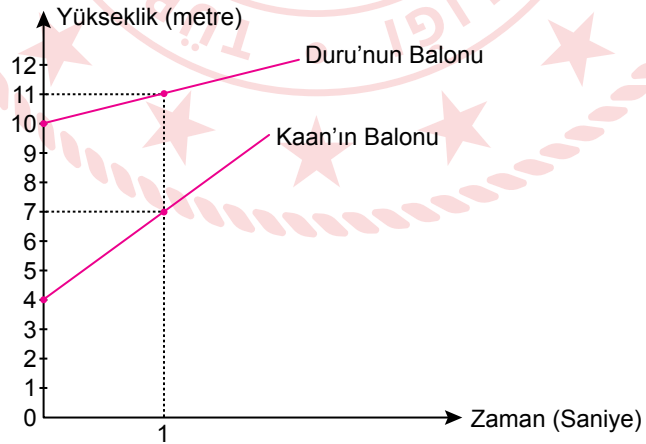


6. Kaan ile Duru evlerinin balkonlarından ellerindeki farklı gazlar kullanılarak şişirilmiş balonları aynı anda bırakıyorlar.



Aşağıda bu balonların zamana bağlı olarak yerden yüksekliklerinin değişimini gösteren doğrusal grafik verilmiştir.

Grafik: Balonların Yerden Yüksekliklerinin Değişimi

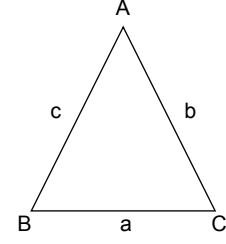


Buna göre balonların bırakıldıktan kaç saniye sonra yerden yükseklikleri eşit olur?

- A) 3 B) 4 C) 5 D) 6

7. Yarıçapı r olan dairenin çevresi $2\pi r$ formülü ile hesaplanır.

Üçgenin her bir kenarının uzunluğu, diğer iki kenarının uzunluklarının farkının mutlak değerinden büyük, toplamından küçüktür.




$$\begin{aligned} |b - c| &< a < b + c \\ |a - c| &< b < a + c \\ |a - b| &< c < a + b \end{aligned}$$

Sosyal Bilgiler dersinden proje ödevi alan Levent, yanda gör-seli verilen Denizli ilimizdeki meşhur üçgen köprülü kavşağın modelini yapmıştır.



Levent yaptığı modelde kenar uzunlukları santimetre cinsinden tam sayı olan üç tane eş ikizkenar üçgen ve çevresi 8π cm olan bir daire kullanmıştır.



Modeldeki ikizkenar üçgenlerin taban uzunlukları dairenin çapının uzunluğuna eşit olduğuna göre üçgenlerden birinin çevresinin uzunluğu en az kaç santimetredir?

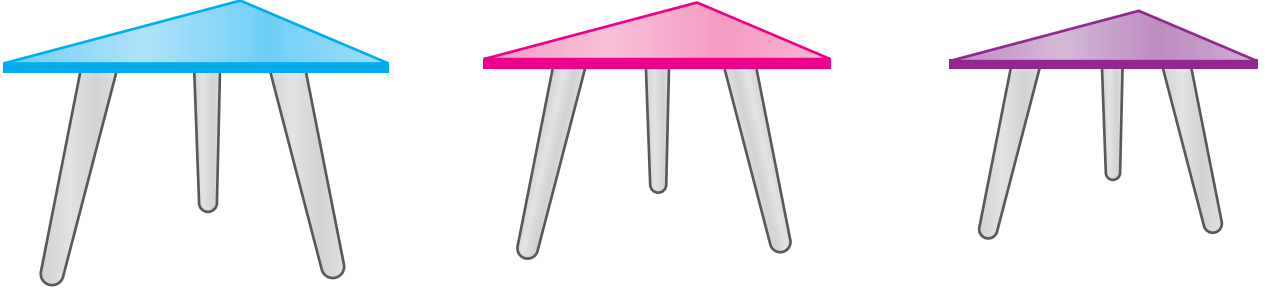
A) 16

B) 17

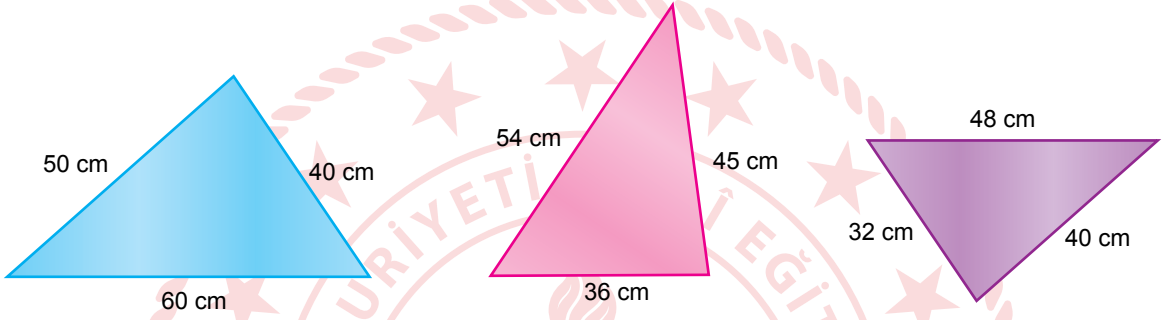
C) 18

D) 19

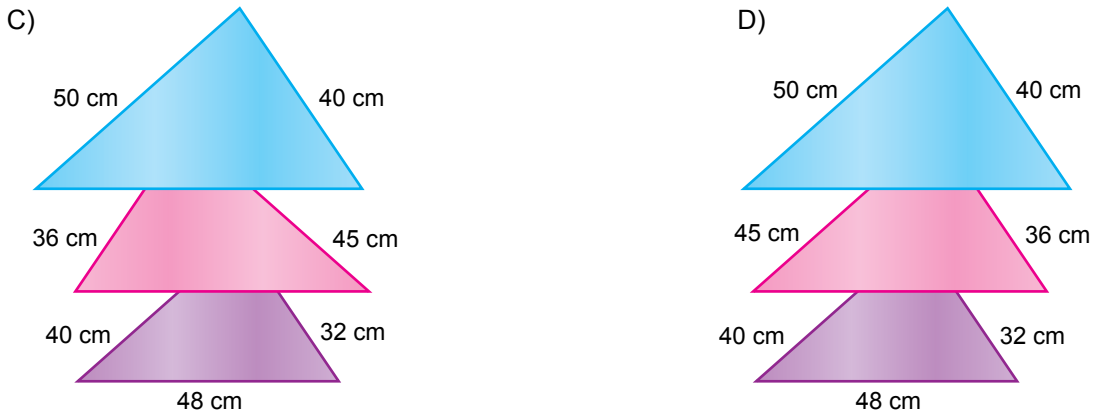

8. Benzer üçgenlerde eş açılardan karşılardaki kenar uzunlukları birbirleriyle orantılıdır. Bu orana "benzerlik oranı" denir.



Üçgen şeklindeki üç parçadan oluşan zigon sehparların üstten görünümü ve ölçüleri aşağıda verilmiştir.



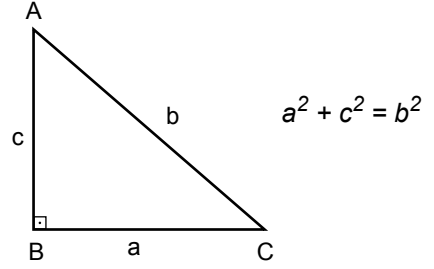
Üst yüzeyleri benzer üçgenler olan bu sehparların eş açılardan aynı yöne bakacak şekilde iç içe yerleştirilmiş hâlinin üstten görünümü aşağıdakilerden hangisi olabilir?



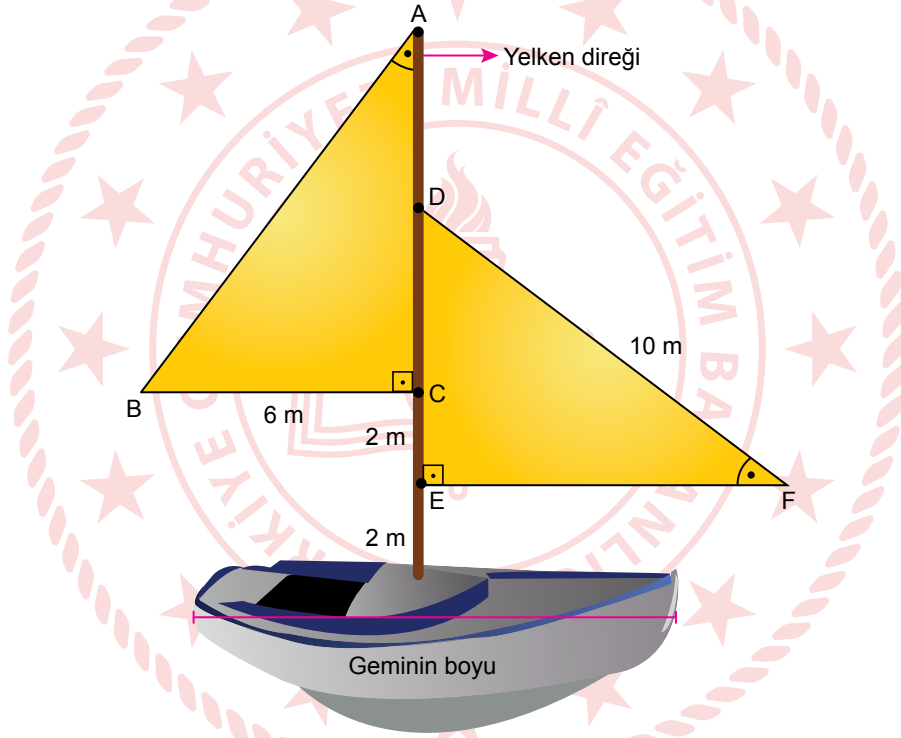
9. Eş üçgenlerin karşılıklı açılarının ölçüleri ve karşılıklı kenarlarının uzunlukları birbirine eşittir.

Dik üçgenlerde 90° lik açının karşısındaki kenara hipotenüs denir.

Bir dik üçgende dik kenarların uzunluklarının kareleri toplamı, hipotenüsün uzunluğunun karesine eşittir.



Aşağıdaki görselde yelkenleri eş üçgenler şeklinde olan bir gemi modeli verilmiştir.

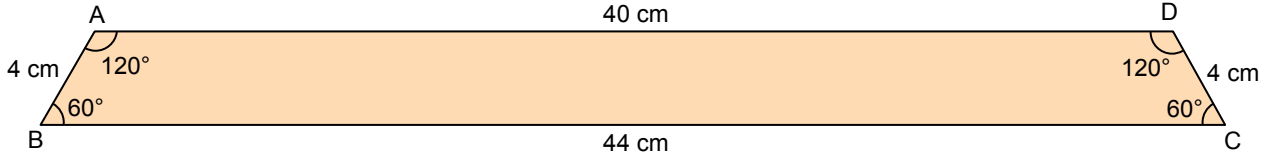


Bu modelde tabana dik olarak yerleştirilen yelken direğinin boyu, geminin boyundan % 20 fazladır.

Yelkenler tabandan itibaren 2'şer metre ara ile direğe bağlandığına göre geminin boyu kaç metredir?

- A) 8 B) 10 C) 12 D) 15

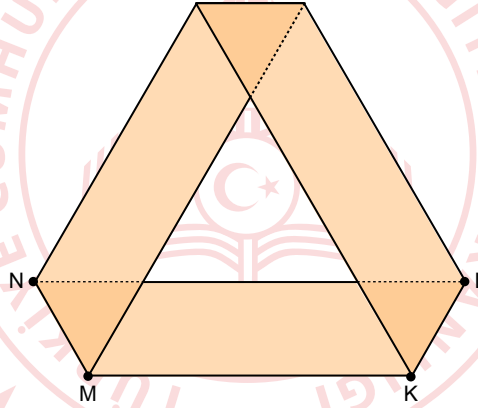
10. Benzer üçgenlerde eş açıların karşısındaki kenar uzunlukları birbirleriyle orantılıdır. Bu orana "benzerlik oranı" denir. Aşağıda kenar uzunlukları ve açı ölçüleri verilen yamuk biçiminde bir kağıt verilmiştir.



Zehra bu kâğıdın, BC kenarı üzerinde B ve C noktalarından 16 cm uzaklıkta M ve K noktalarını; AD kenarı üzerinde ise [NM] // [DC] ve [LK] // [AB] olacak şekilde N ve L noktalarını işaretliyor.



Daha sonra Zehra bu kâğıdı [MN] ve [KL] boyunca katlayarak aşağıdaki şekli elde ediyor.



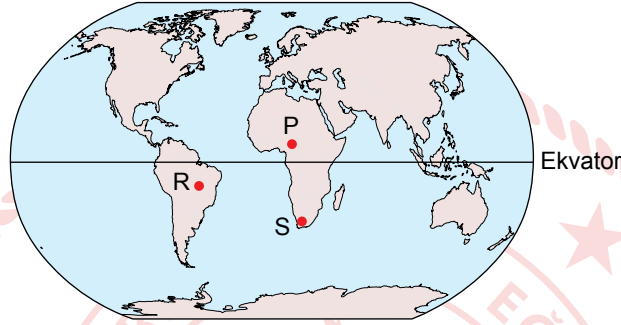
Zehra'nın oluşturduğu bu şekilde, kâğıdın üst üste gelmesiyle oluşan üçgenlerden biri ile orta kısımda oluşan üçgen arasındaki benzerlik oranı aşağıdakilerden hangisidir?

- A) $\frac{1}{5}$ B) $\frac{1}{4}$ C) $\frac{1}{3}$ D) $\frac{1}{2}$

Fen Bilimleri Örnek Soruları

1. Eksen eğikliğine ve Dünya'nın Güneş etrafındaki hareketine bağlı olarak Ekvator dışındaki yerlerde gece gündüz süresi yıl içerisinde değişiklik gösterir. Örneğin 21 Haziran tarihinde Güney Yarım Küre'de bulunan yerler yıl içindeki en uzun geceyi yaşarlar, 21 Aralık tarihinde ise bu durumun tam tersi Kuzey Yarım Küre'de en uzun gece yaşanır. Aynı zamanda 21 Haziran tarihinde Dünya üzerindeki herhangi bir noktadan kuzeye doğru gidildikçe gündüz süresi uzar.

Aşağıdaki görselde P, R ve S şehirlerinin Dünya üzerindeki konumları gösterilmektedir.



Verilen bilgilerden hareketle bu şehirlerin 21 Aralık tarihindeki gece sürelerinin sıralanışı hangi seçenekte doğru verilmiştir?

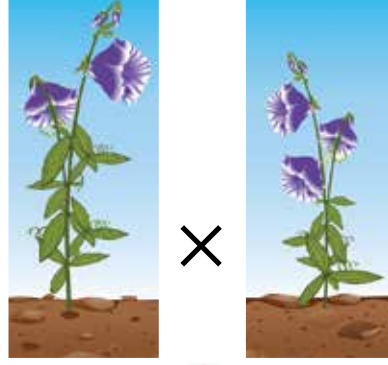
A) $S > P > R$

B) $P > R > S$


C) $P > S > R$

D) $S > R > P$

2. Aşağıda iki bezelye bitkisinin çiçek rengi bakımından çaprazlanması sonucu oluşan yavru bezelye bitkisi gösterilmektedir.



Çaprazlanan bezelyeler



Mor çiçek özelliğinin beyaz çiçek özelliğine baskın olduğu bilindiğine göre çaprazlanan mor çiçekli bezelyeler,

- I. $Aa \times Aa$
- II. $Aa \times aa$
- III. $AA \times aa$

genotiplerinden hangilerine sahip olabilir?

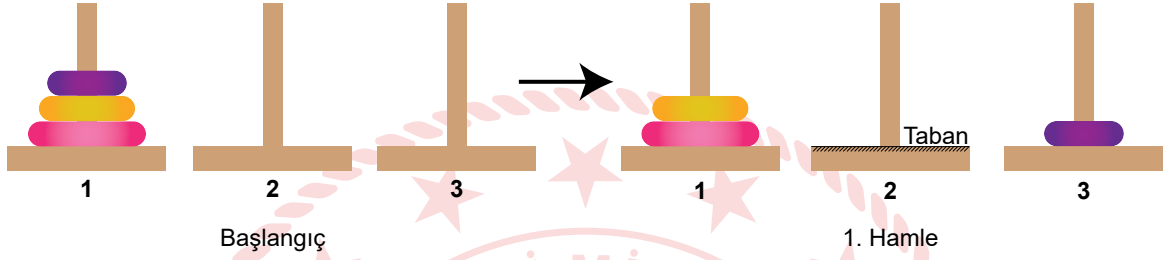
- A) Yalnız I. B) I ve II. C) II ve III. D) I, II ve III.

3. Hanoi kuleleri oyunu, kule içine geçirilmiş disklerin yine aynı şekilde başka bir kuleye taşınmasına dayanan bir oyundur.

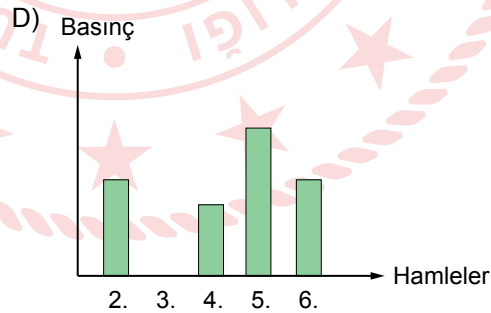
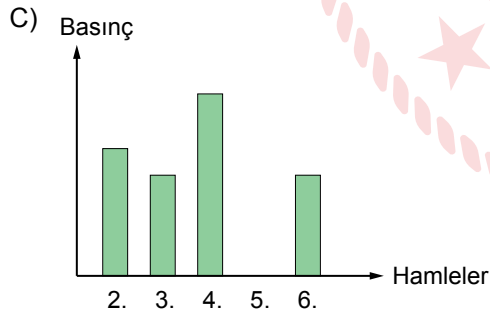
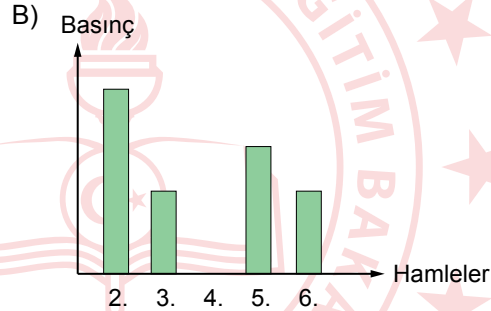
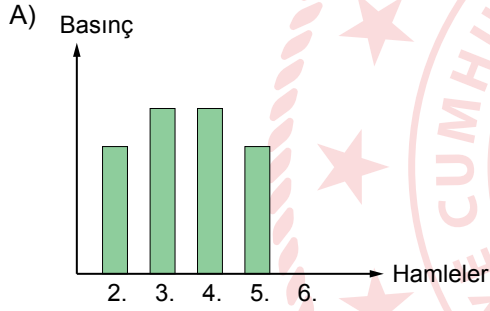
Bu oyunda,

- Aynı maddeden yapılmış, farklı büyüklükte diskler kullanılır.
- Her hamlede sadece bir disk yerinden oynatılabilir.
- Büyük disk, küçük disk üzerine gelemez.
- Alınan disk, herhangi bir kuleye konulmak zorundadır.

1. kuledeki diskleri 7 hamleyle 3. kuleye taşıyan bir öğrenci ilk hamleyi aşağıdaki gibi yapmıştır.

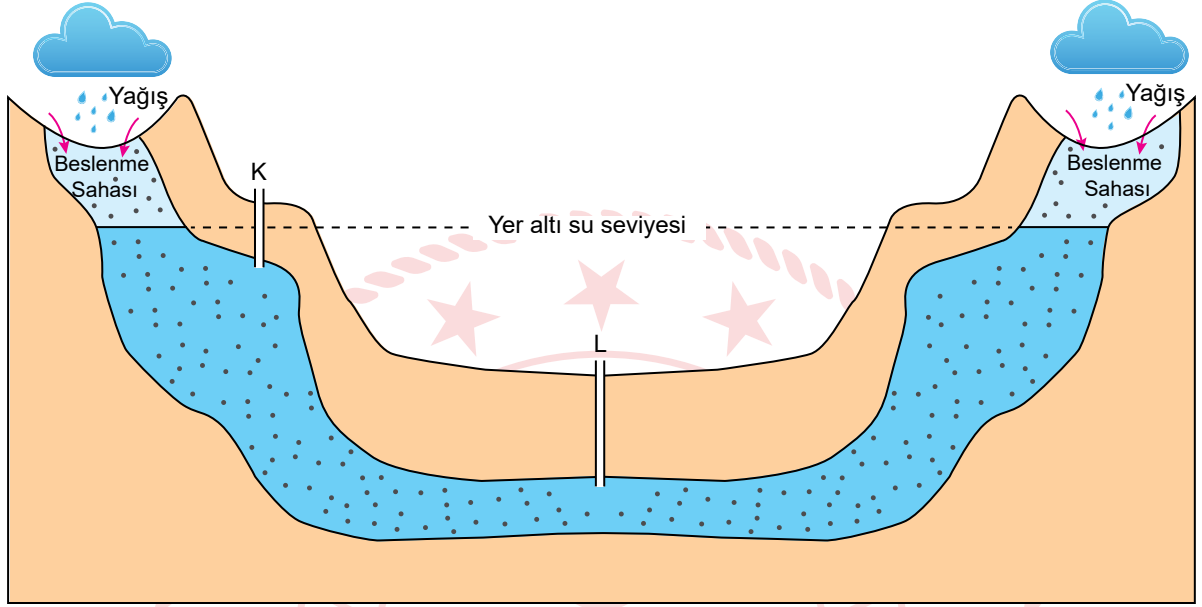


Hamlelere göre disklerin 2. kulenin tabanına uyguladığı basıncı gösteren grafik aşağıdakilerden hangisi olabilir?



4. Geçirimsiz iki tabaka arasında bulunan yer altı sularının açılan sondaj kuyuları ile yeryüzüne çıkması sonucu artezyen kaynağı oluşur.

Mühendis Mehmet Bey yaptığı çalışmalar sonucunda su çıkarabileceği iki nokta belirlemiş ve belirlediği bu noktalara sondaj kuyularını şekildeki gibi açarak artezyen oluşturmayı düşünmüştür.

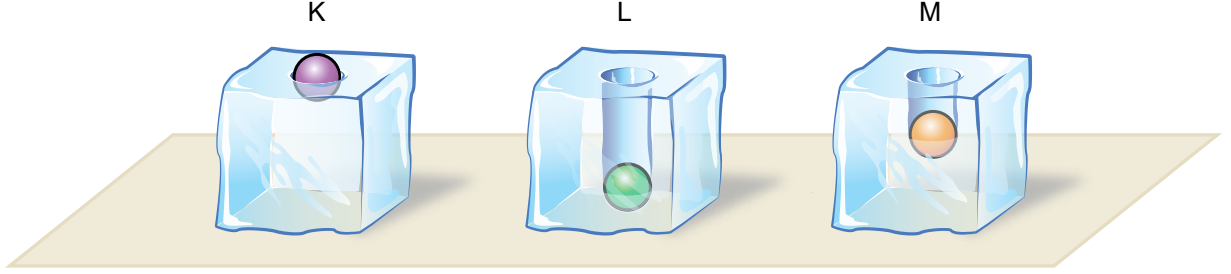


Geçirimsiz tabaka Geçirimli tabaka

Sondaj kuyuları açıldığında gerçekleşecek olaylarla ilgili aşağıdakilerden hangisi söylenebilir?

- A) K noktasında su kendiliğinden çıkar. Çünkü K'deki kuyunun derinliği daha azdır.
B) L noktasından suyun çıkabilmesi için pompaya ihtiyaç vardır. Çünkü L'deki kuyunun derinliği daha fazladır.
C) L noktasında su kendiliğinden çıkar. Çünkü L noktasının altındaki geçirimsiz tabaka daha kalındır.
D) K noktasından suyun çıkabilmesi için pompaya ihtiyaç vardır. Çünkü K noktası, yeraltı su seviyesinin üzerindedir.

5. İlk sıcaklıkları $10\text{ }^{\circ}\text{C}$ olan saf maddeden yapılmış eşit kütleli K, L ve M bilyeleri, özdeş ısıtıcılarla sıcaklıkları $80\text{ }^{\circ}\text{C}$ olana kadar ısıtılıyor. Eşit sıcaklıktaki bu üç bilye aynı anda özdeş buz kalıplarının üzerine bırakılıyor. Bir süre sonra bilyelerin ve buz kalıplarının durumu aşağıdaki gibi gözleniyor.



Buna göre gerçekleşen olaylar ile ilgili,

- I. M'nin buza verdiği ısı, K'nın verdiği büyüktür.
- II. K, L ve M bilyeleri farklı saf maddelerdir.
- III. Buz kalıplarının üzerine bırakılmadan önce en fazla ısı K bilyesine verilmiştir.

yargılarından hangileri doğrudur?

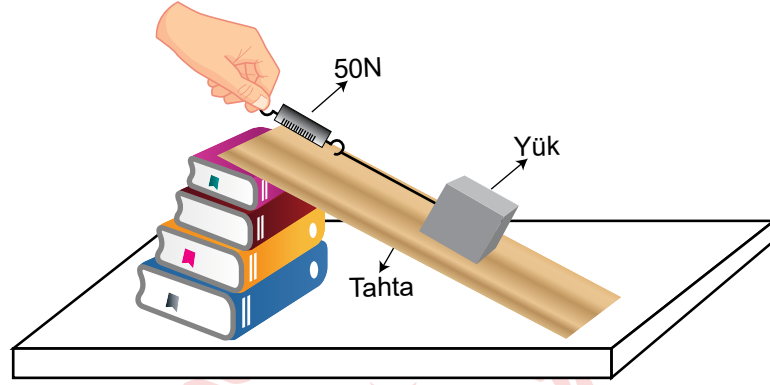
A) Yalnız I.

B) Yalnız III.

C) I ve II.

D) II ve III.

6. Bir öğretmen sınıfta şekildeki düzeneği kuruyor ve öğrencilerine “Dinamometredeki değeri azaltmak için neler yapabiliriz?” sorusunu yöneltiyor.



Buna göre öğrencilerden gelen,

- I. Eğimi azaltacak şekilde tahtanın boyunu uzatabiliriz.
- II. Daha fazla kuvvet uygularız.
- III. Kitap sayısını azaltabiliriz.

cevaplarından hangileri doğrudur?


A) Yalnız I.

B) I ve III.

C) II ve III.

D) I, II ve III.

7. Aşağıda bir tornavidanın farklı kullanım şekilleri verilmiştir.



Şekil 1: Vida, tornavida ile döndürülerek tahta blokta ilerliyor.

Şekil 2: Boya kutusunun kapağı tornavida ile açılıyor.

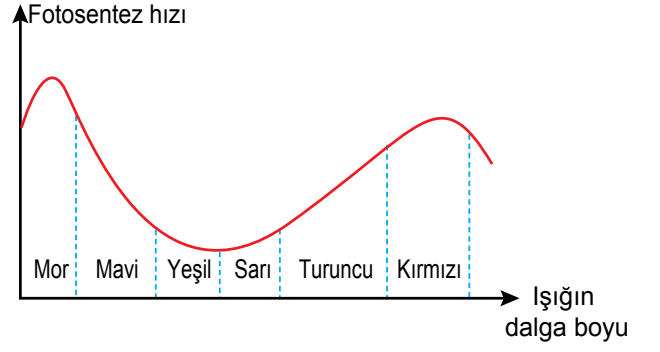
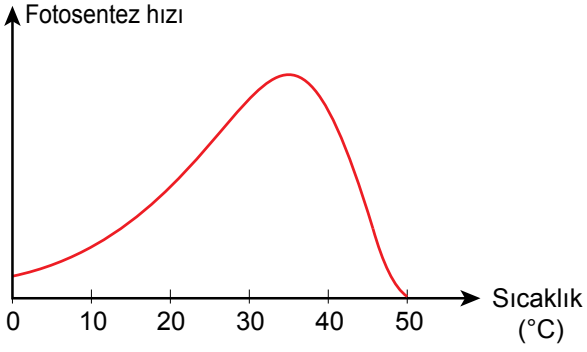
Tornavidanın verilen kullanım şekillerine göre,

- I. Şekil 1'de kuvvetten kazanç sağlanmıştır.
- II. Maşa ve cımbız üretim amacına uygun kullanıldığında Şekil 2'deki kaldıraç çeşidi ile benzerlik gösterir.
- III. Tornavida, Şekil 1 ve Şekil 2'de farklı basit makine olarak kullanılmıştır.





çıkarımlarından hangileri yapılabilir?

- A) Yalnız I. B) I ve III. C) II ve III. D) I, II ve III.

8. Sıcaklığın ve ışığın dalga boyunun fotosentez hızına etkisini gösteren grafikler aşağıda verilmiştir.



Bu verilere dayanarak, özdeş bitkilerle kurulan aşağıdaki düzeneklerin hangisinde fotosentezin hızı en fazla olur? (Potasyum hidroksit (KOH) çözeltilisinin karbondioksiti tutma özelliği vardır.)



9. Ahmet, bilimsel bir kaynakta fermantasyon ile ilgili aşağıdaki açıklamaları okumuştur.

Fermantasyon, bazı canlıların hücrelerinde oksijen kullanmaksızın enerji elde edilen bir süreçtir. Son ürünler açısından birbirinden farklı fermantasyon tipleri vardır. Fermantasyon çeşitleri arasında en yaygın olanlar etil alkol ile laktik asit fermantasyonudur. Bu iki fermantasyon aşağıdaki denklemlerle gösterilebilir.

Besin \longrightarrow Karbondioksit + Etil alkol + Enerji (ATP)

Besin \longrightarrow Laktik asit + Enerji (ATP)

Ahmet, bu konuda bir araştırma yapmak için öğretmeninin yardımıyla aşağıdaki düzeneği hazırlıyor. Şekerli su bulunan cam balona fermantasyon yapan bakterileri ekliyor. Öğretmen bu bakterilerin, etil alkol veya laktik asit fermantasyonu yapan bakterilerden biri olduğunu söylüyor.

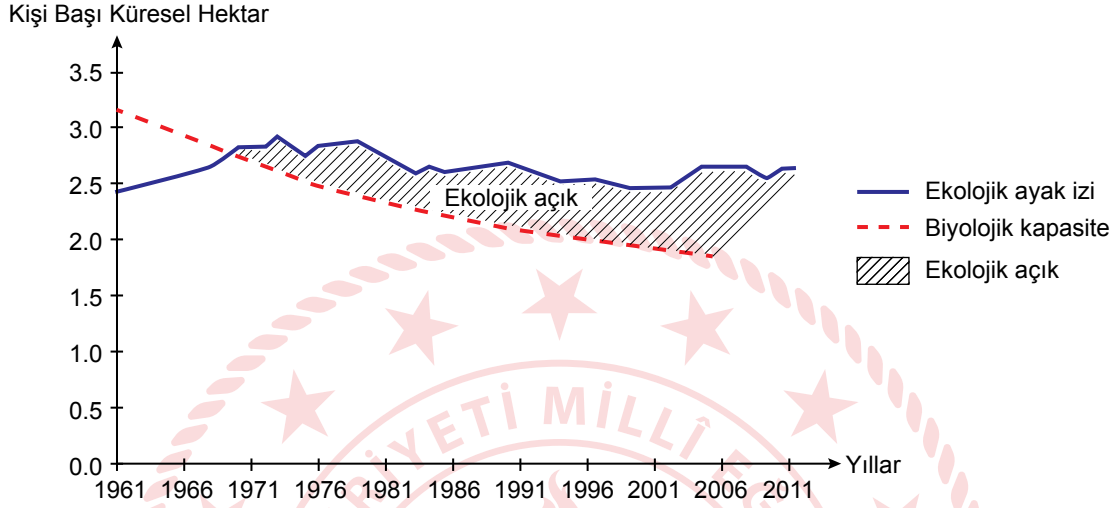


Ahmet'in yapmış olduğu bu deney ile ilgili olarak aşağıdaki yargılardan hangisi doğrudur?

- A) Düzenekteki bakteriler laktik asit fermantasyonu yapmıştır.
- B) Bakterilerin etkinliği ile açığa çıkan oksijen gazı balonun şişmesini sağlamıştır.
- C) Deney sonucunda cam balonda etil alkol oluşması beklenir.
- D) Cam balondaki bakterilerin ortamdaki oksijen gazını hızla tüketmeleri beklenir.

10. • Tüketilen kaynakların yeniden üretiminin sağlanması ve oluşan atıkların bertaraf edilmesi için kullanılan verimli toprak ve su alanı ekolojik ayak izi kapsamında yer almakta ve küresel hektar ile ifade edilmektedir.
- Bir coğrafi bölgenin yenilenebilir doğal kaynakları üretme kapasitesi ise biyolojik kapasite olarak adlandırılmaktadır.

Aşağıdaki grafikte 1961-2011 yılları arasındaki kişi başına düşen küresel ekolojik ayak izi ve biyolojik kapasite oranları yer almaktadır.



Verilen bilgiler ve grafikten hareketle aşağıdaki yorumlardan hangisi yapılamaz?

- A) Kaynakların yenilenme hızlarından daha hızlı bir şekilde tüketilmesi, insan yaşamının ve biyolojik çeşitliliğin bağlı olduğu kaynakları yok edebilir.
- B) Biyolojik kapasitede meydana gelen azalışın aksine ekolojik ayak izinin artması, dünyamızı sürdürülemez bir yapıya sokabilir.
- C) Ekolojik açığın artması, karbondioksit salınımının yükselmesi ve içilebilir suların tükenmesi gibi birçok olumsuz sonuca neden olabilir.
- D) İnsanların doğadan taleplerinin artması, kişi başı küresel hektar alanını düşüreceğinden ekolojik açığın azalmasını sağlayabilir.

CEVAP ANAHTARI

MATEMATİK

1. B
2. C
3. B
4. B
5. C
6. A
7. C
8. D
9. B
10. D

FEN BİLİMLERİ

1. B
2. A
3. A
4. D
5. C
6. B
7. B
8. D
9. C
10. D

